

5/6

対称な図形⑤

☆回しても同じ形 教科書 P14

①教科書 P 14 を読む



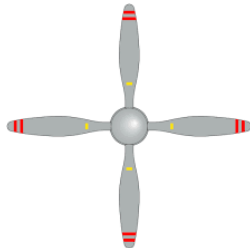

☆まとめ (教科書で調べて穴埋めをする)

1つの点のまわりに【 180 】° 回転させたとき、
もとの図形にぴったり重なる図形を、【 点対称 】
な図形という。

また、この点を【 対称の中心 】という。

活動

点対称かな？ 点対称なら○を、そうでないなら×を
表に書き入れましょう。

			
帝都高速度交通営団 (現:東京 メトロ) シンボルマーク	3 翅プロペラ	4 翅プロペラ	港区のシンボルマーク
○	×	○	○

学習感想

(分かったこと、疑問、もっと知りたいこと、考えたこと)

(5/6 ここまで)